



## إختبار الفصل الأول في مادة اللغة العربية للسنة الخامسة ابتدائي

**النص :**


كَانَتْ جُفُوعُ الْمَوَاطِنِينَ مُخْتَشِدَةً عَلَى جَانِبِي الشَّارِعِ الطَّوِيلِ ، تَنْتَظِرُ وُضُوعَ الْمُؤَكِّبِ الْحَزِينِ ، لِتَلْقِي نَظْرَةَ الْوَدَاعِ عَلَى جُنْحَمَانَ الْبَطْلِ الْعَظِيمِ ، عَبْدِ الْقَادِرِ الْجَزَائِرِيِّ ، وَهُوَ يُنْقَلُ مِنْ دِمَشَقٍ ، إِلَى بَلَدِهِ الْجَزَائِرِ قَلْعَةَ الْأَحْرَارِ .

قَالَ عَدْنَانُ لِأَبِيهِ وَهُوَ يَقِفُ بِجَانِبِهِ عَلَى الرَّصِيفِ وَسَطَ زحامِ النَّاسِ : لَقَدْ حَكَى لَنَا الْمُعَلِّمُ يَا أَبِي ، قِصَّةَ الْبَطْلِ عَبْدِ الْقَادِرِ الْجَزَائِرِيِّ ، فِي دَرَسِ التَّارِيخِ ، لَقَدْ هَزَّتْ بِطَوْلَتِهِ مَشَاعِرَنَا ، وَأَثَارَتْ شَجَاعَتَهُ حَمَاسَتَنَا ، وَكَانَتْ فَرْحَتَنَا عَظِيمَةً لِأَنَّ الْجَزَائِرَ الْحَبِيبَةَ نَالَتْ اسْتِقْلَالَهَا بَعْدَ طُولِ الْجِهَادِ وَالنِّضَالِ .

قَالَ الْأَبُ : كَانَ عَبْدُ الْقَادِرِ قَائِدًا شَجَاعًا ، اتَّفَقَ الشَّعْبُ فِي الْجَزَائِرِ حَوْلَهُ ، فَحَارَبَ الْإِسْتِعْمَارَ الْفَرَنْسِيَّ الْبَغِيضَ حَزْبًا مُرَّةً قَاسِيَةً .

وَتَعُوذُ قِصَّةُ احْتِلَالِ فِرَنْسَا لِلْجَزَائِرِ إِلَى عَامِ 1830 م ، حِينَ سَلَبَتْ فِرَنْسَا الشَّعْبَ حُرِّيَّتَهُ ، وَأَلْقَتْ فِي الشُّجُونِ الْمُظْلِمَةِ أَحْرَارَهُ ، وَفَرَضَتْ اللُّغَةَ الْفَرَنْسِيَّةَ عَلَى أبنَائِهِ ، حَتَّى صَارَ الْجَزَائِرِيُّ غَرِيبًا فِي أَرْضِهِ ، لَا يَفْلِكُ مِنْ أَمْرِهِ شَيْئًا ، غَيْرَ أَنَّ إِخْوَتَنَا الْأَبْطَالَ هَبُّوا مِثْلَ رَجُلٍ وَاحِدٍ ، فَخَرَجُوا إِلَى الْجِبَالِ وَنَظَّمُوا جَيْشَ التَّخْرِيرِ الَّذِي دَخَلَ فِي ضُفُوفِهِ كُلُّ جَزَائِرِيٍّ ، وَنَاصَلُوا الْعَاصِبِينَ نِضَالًا لَا يَلِينُ وَلَا يَبْدَأُ طَوَالَ مِائَةِ وَثَلَاثِينَ عَامًا ، حَتَّى ارْتَفَعَ أَحْيَرًا عِلْمُ الْجَزَائِرِ حَقَاقًا أَبْيَأَ فِي سَمَائِهَا .

( نعم يا بني ، كان استقلال الجزائر ثمرة جهاد طويل ، أدهش العالم ، وجعله ينحني إكبارا للبطولة ، وتقديرا للشجاعة . )



**حول المعنى :** اختر الإجابة الصحيحة :

1- كَانَتْ جُمُوعُ الْمَوَاطِنِينَ مُخْتَشِدَةً فِي هَذَا الْيَوْمِ تَنْتَظِرُ :

\* الْمَوَكِبِ الْحَزِينِ . \* جُثْمَانِ عَبْدِ الْقَادِرِ الْجَزَائِرِيِّ . \* لِقَاءِ الْبَطْلِ .

2- حَكَى الْمُعَلِّمُ لِعِدْنَانَ وَأَصْحَابِهِ عَنْ عَبْدِ الْقَادِرِ الْجَزَائِرِيِّ فِي دَرَسٍ :

\* التَّارِيخَ \* الجغرافيا \* لتربية الفنية .

3- مَاذَا نَظَمَ الْمُجَاهِدُونَ لِمَجَابَهَةِ الْإِسْتِعْمَارِ؟ وَكَيْفَ كَانَ نِضَالَهُمْ؟

.....  
.....

4- اسْتَخْرِجْ مِنَ النَّصِّ مُرَادِفَ الْكَلِمَاتِ التَّالِيَةِ :

مَجْتَمِعَةٌ = ..... قَاوَمُوا = .....

**حول اللغة :**

1) استخرج من النص

فعل مضارع	صفة	أداة نصب	أخوات كان	فعل مزيد	جمع التفسير	جمع المذكر السالم

2) عَلِّ سَبَبَ كِتَابَةِ النَّاءِ وَ الْهَمْزَةَ فِي الْكَلِمَاتِ التَّالِيَةِ :

كَانَتْ : .....

تَمَرَةٌ : .....

أَدَهَشَ : .....

أَبْنَاهُ : .....

3) سَكِّلِ الْعِبَارَةَ الْمَكْتُوبَةَ بَيْنَ قَوْسَيْنِ فِي النَّصِّ .

4) أَعْرَبْ مَا تَحْتَهُ خَطً . صَارَ الْجَزَائِرِيُّ غَرِيبًا

.....  
.....  
.....

5) أَكْمِلِ الْفَرَاغَ :

السَّجُونِ	.....
.....	المُعَلِّمُ
الجِبَالِ	.....
الأَبْطَالِ	.....
.....	العَظِيمِ.

6) استبدل " عدنان " بـ " شعاد و مريم "

" قَالَ عَدْنَانُ لِأَبِيهِ وَهُوَ يَقِفُ بِجَانِبِهِ عَلَى الرَّصِيفِ وَسَطَ زحامِ النَّاسِ : لَقَدْ حَكَى لَنَا  
الْمُعَلِّمُ يَا أَبِي "

### الوضعية الإدماجية :

السند: وَطَنِي الْجَزَائِرُ بِلَدِّ عَظِيمٍ قَدْ سَقِيتَ أَرْضَهُ بِدَمَاءِ الشُّهَدَاءِ ، بِفَضْلِ إِتِّحَادِ أُنْبَاءِهِ فِي دَحْرِ  
الْعَدُوِّ ، وَهُوَ الْيَوْمَ يَنْتَظِرُ اتِّحَادًا وَتَعَاوُنًا جَدِيدًا بَيْنَ أُنْبَاءِهِ مِنْ أَجْلِ بِنَائِهِ وَتَطْوِيرِهِ وَازْدِهَارِهِ  
التعليمة: تحدث كيف يشارك الجميع في بناء الوطن وازدهاره .





الاسم: .....

اللقب: .....

## اختبار الفصل الأول في الرياضيات للسنة الخامسة ابتدائي

بعد إعلان الفائزين بقرعة الحج لهذه السنة كان جد و جدة رنا من بين اللذين أسعفهم الحظ لأداء مناسك الحج فتقدما الى الوكالة السياحية (براعم العلم) فعرضت عليهم الجدول التالي.

حج 3545451	حج 259880	حج 256354

### المطلب 1:

أكتب التكاليف التالية بالحروف:

.....256354 ♠

.....259880 ♠

.....3545451 ♠

فكك التكاليف تفكيكا نموذجيا:

256354: .....

259880: .....

3545451: .....



ج) أحصر كل تكلفة كما يلي :

- ♣ بين ألفين متتاليتين : ..... < 256354 < .....
- ♣ بين عشرات الآلاف متتالية : ..... < 259880 < .....
- ♣ بين وحدات الملايين متتالية : ..... < 3545451 < .....

مطلب 2 : رتب تكاليف الحج تصاعديا:

.....

3545451 عدد العشرات الآلاف ..... عدد المئات ..... رقم الملايين .....

مطلب 3: بدأ الجد بالبحث عن الأماكن و المسافة بينهما :

- ♣ من مكة المكرمة الى المدينة المنورة  
43.3 km = .....km .....hm
- ♣ المسافة بين الصفا و المروة  
394.5m = .....cm
- ♣ المسافة بين منن و عرفات  
14km = .....m

مطلب 4: مثل على المرصوفة تشفير النقط الثلاثة

:

	1	2	3	4	5	6	7	8	9
A									
B									
C									
D									
E									
F									
G									
H									
I									

● ( 2 ، A ) أبراج الساعة

● ( 2 ، E ) متحف برج الساعة

● ( 6 ، E ) ساحة الحمام

♣ أربط بين النقط الثلاثة

♣ ما هو الشكل المتحصل عليه؟

♣ .....

أنواع الزوايا	زاوية منفرجة	زاوية حادة	زاوية قائمة
عدد الزوايا	.....	.....	.....

## مطلب 5:


أرادت الجدة إعادة تجديد صالونها قبل الذهاب الى الحج فاشتريت 6 أرائك ثمن الأريكة الواحدة 95000 دج وسجادتان ب 250000 دج و ثريا ب 384510 دج

- أحسب مصاريف تجديد الصالون
- اذا علمت أن الجدة خصصت مبلغ 1300000 دج لتجديد الصالون
- أحسب المبلغ المتبقي للجدة.

الأجوبة

الحل

العملية





**إختبار الفصل الأول في مادة التربية العلمية و التكنولوجيا للسنة الخامسة**

**الاشكالية:**

بمناسبة اليوم العالمي للعلوم من اجل السلام أزدت رعد أن تُشارك في مُسابقة حَاصَة بالتربية العلمية لِمستوى السنة الخامسة ابتدائي، و للفوز طَلَبت مُشاركة صديقتها مرام و تسبيح على حَلّ الأَسئَلَة التالية.

**السؤال الأول:** أجب بصحيح أو خطأ .

- الهَوَاء غير ضروري لِإِخْتِرَاقٍ . -> .....
- عِنْد تَوَقُّرِ ثُنَائِي الأكسجين، يَتِمّ الإِخْتِرَاقُ التَّامُ . -> .....
- العَاذُ الطَّبِيعِيُّ هُوَ حَلِيطٌ مِنَ العَاذَاتِ الغير القابلة للاحتراق . -> .....
- يُوجَدُ نُوْعٌ وَاحِدٌ مِنَ المَنابع الكهربيَّة لِتَغْذِيَّةِ التَّجْهِيزاتِ التي تُشْتَغَلُ بِالكَهْرَبَاءِ. -> .....
- الإِخْتِرَاقُ غَيْرُ التَّامِ يَنْتُجُ عَنْهُ هَبَابُ الفَحْمِ و غاز أَحَادِي أكسيد الكَرْبُونِ، و لَوْنُ اللَّهَبِ أَضْفَرُ . -> .....
- الحركة هي نتيجة تقلص عضلات غير مرتبطة بالعظام بواسطة الأوتار . -> .....

.....

- الحركة هي نتيجة تقلص عضلات غير مرتبطة بالعظام بواسطة الأوتار . -> .....

**السؤال الثاني:** اكمل الفراغ بما يناسب .



العضلة الباسطة للساعد		العضلة القابضة للساعد		اسم الحركة	
الحالة	المظهر	الحالة	المظهر		
					الشكل أ
					الشكل ب

**السؤال الثالث:** صنف كل جهاز مما يلي بالمصدر الكهربائي الذي يتغذى منه.



القطاع الكهربائي

.....  
.....  
.....

البطارية

.....  
.....  
.....

**السؤال الرابع:**

الكهرباء والغاز ضروريان في حياة الناس ، فكل البيوت أوصل إليها التيار الكهربائي الذي يُستعمل لتشغيل مختلف الأجهزة ، والغاز الذي يُستعمل للتدفئة و الطهي ، ورغم أهميتهما إلا أنهما قد يشكلان خطرًا على الناس إن لم يُحسبوا استغلالهما.



1- قدم 3 نصائح تخص قواعد الأمن عند التعامل مع الغاز.

.....  
.....  
.....

2 أذكر 4 قواعد أمن لتجنب مخاطر الكهرباء.

.....  
.....  
.....  
.....





### إختبار الفصل الأول في مادة التاريخ و الجغرافيا للسنة الخامسة ابتدائي

عاش الإنسان القديم في أماكن مختلفة على الأرض ، وَقَدْ عَثَرَ عُلَمَاءُ الأَثَارِ عَلَى بَعْضِ آثَارِهِ وَالَّذِي أُظْلِقَ عَلَيْهَا اسْمُ " المَعَالِمِ التَّارِيخِيَّةِ " وَ قَدْ مَكَّنَتْ هَذِهِ المَعَالِمِ العُلَمَاءِ وَالباحثين مِنْ تَقْسِيمِ فَتْرَةِ تَوَاجُدِ الإنسانِ عَلَى الأَرْضِ إِلَى غُضُورِ تَارِيخِيَّةٍ .

**السؤال الأول:** أكتب اسم و موقع كل معلم .



..... إسمه  
..... موقعه

### السؤال الثاني: أجب بصحيح او خطأ

- الملك ماسينيسا لم يتمكن من توحيد النوميديتين . <— <.....
- الإستعمار الحديث حركة سياسية و عسكرية ظهرت في اوروبا . <— <.....
- نتج عن الاستيطان عزل السكان الأصليين و احتقارهم . <— <.....
- نهب خيرات البلاد من انعكاسات الإستعمار . <— <.....
- الحماية أسلوب استعماري تدير الدولة الإستعمارية الشؤون الداخلية . <— <.....
- نشر الحضارة الأوروبية من الأسباب الإقتصادية للاستعمار . <— <.....

**السؤال الثالث:** اكمل بما يناسب .



## الجغرافيا

**السؤال الأول:** اجب بصحيح او خطأ

- البلدية رقعة جغرافية كبيرة من الوطن . -> .....
- تسمى السهول الصخرية بالرق -> .....
- تقع الجزائر بين خطي طول 19 شرقا و 37 غربا -> .....
- اعلى قمة في الجزائر هي قمة تاهات -> .....
- المناخ القاري يكون في المناطق الصحراوية القريبة من الساحل -> .....
- يبلغ طول الساحل الجزائري 1200 كلم -> .....

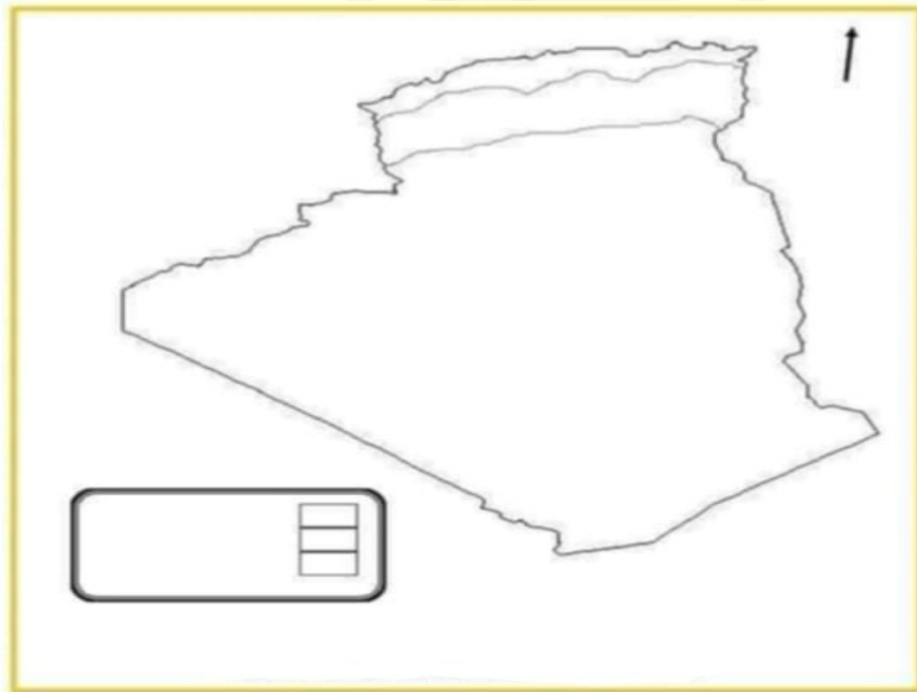
**التمرين الثاني:** اكمل الجدول

مناخ البحر الأبيض المتوسط - المناخ الصحراوي - الأغنام - الشيخ - الخيول - حشائش الاستبس

المناخ	الحيوانات	الغطاء النباتي
.....	.....	الكروم
المناخ القاري.	.....	.....
.....	الجمال.	.....

**التمرين الثالث:** عين على الخريطة التالية الأقاليم المناخية

مدينة ساحلية : ..... مدينة داخلية : .....



خريطة .....



## إختبار الفصل الأول للسنة الخامسة إبتدائي في مادة التربية المدنية

### ❖ الوضعية الانطلاقية:

رَأَرَ تَلَامِيذُ السَّنَةِ الْخَامِسَةِ مَرْكَزَ الْبَرِيدِ وَالْمَوَاصِلَاتِ حَيْثُ تَعَرَّفُوا عَلَى هَذَا الْمِرْفَقِ وَالْخَدَمَاتِ الَّتِي يُقَدِّمُهَا.

### التمرين الأول:

أجب بصحيح او خطأ:

- من مَرَاجِلِ تَنْشِيطِ الْجَوَارِ طَرْحُ الْأَسْئَلَةِ بِأَسْلُوبٍ رَاقِيٍ. ← .....
- الْمِرْفَقُ الْخَاصُّ هُوَ مَوْسَسَةٌ تُقَدِّمُ خَدَمَاتٍ مَجَانِيَةً. ← .....
- تُسْتَعْمَلُ الْبِطَاقَةُ الذَّهَبِيَّةُ لِاسْتِخْرَاجِ شَهَادَةِ الْمِيلَادِ. ← .....
- يُعَدُّ الْهَاتِفُ مِنْ وَسَائِلِ الْإِتِّصَالِ السَّمْعِيَّةِ فَقَطُّ. ← .....
- الْحَالَةُ الْمَدَنِيَّةُ الْإِلِكْتُرُونِيَّةُ تَدُلُّ عَلَى مُسَايَرَةِ الْوَطَنِ لِلْحَدَاثَةِ وَالْعَصْرَنَةِ. ← .....
- الْمَرَافِقُ الْعَامَّةُ تَنْشَأُ مِنْ طَرَفِ الْأَشْخَاصِ لِتَحْقِيقِ أَرْبَاحٍ. ← .....

### التمرين الثاني: اربط بسهم ما يلي:

- |   |                                |
|---|--------------------------------|
| • نَشْرُ الْأَخْبَارِ فِي مُخْتَلَفِ الْمَجَالَاتِ فِي أَنْحَاءِ الْعَالَمِ | • الْبَرِيدُ وَالْمَوَاصِلَاتُ |
| • تَنْمِيَةُ الْعِلَاقَاتِ بَيْنَ الْأَفْرَادِ وَالْأَسْرِ وَالشُّعُوبِ     | • الْإِعْلَامُ وَالْإِتِّصَالُ |
| • تَسْهِيلُ الْإِتِّصَالِ دَاخِلَ وَخَارِجَ الْوَطَنِ وَفِكِ الْعُزْلَةِ    |                                |
| • تَسَاهُمُ فِي تَسْوِيقِ مُنْتَجَاتِهَا عَبْرَ الْإِشْهَارِ                |                                |

### التمرين الثالث:

صَنَّفِ فِي الْجَدْوَلِ الْخَدَمَاتِ التَّالِيَةَ: الْحُصُولُ عَلَى جَوَارِ السَّفَرِ، تَزْوِيدُ الْمَدْرَسَةِ بِالْأَنْتَرْنِيَتِ، تَسْهِيلُ فَاتُورَةِ الْكَهْرَبَاءِ، الْحُصُولُ عَلَى الْبِطَاقَةِ الذَّهَبِيَّةِ، تَحْوِيلُ الْأَمْوَالِ مِنْ شَخْصٍ إِلَى آخَرَ، تَسْهِيلُ الْإِتِّصَالِ دَاخِلَ وَخَارِجَ الْوَطَنِ.



خَدَمَاتُ وَكَالَةِ إِتْصَالَاتِ الْجَزَائِرِ	خَدَمَاتُ بَرِيدِ الْجَزَائِرِ
.....-	.....-
.....-	.....-
.....-	.....-

### الوضعيات الإحصائية:

بَيْنَمَا كَانَ زَكْرِيَاءُ عَائِدًا إِلَى الْمَنْزِلِ بِالنَّفْلِ الْمَدْرَسِيِّ لَفَتَتْ اِنْتِبَاهَهُ لَافِتَاتُ إِشْهَارٍ فِي الطَّرِيقِ، وَلَمَّا وَصَلَ وَجَدَ فَائِثَةَ الْكَهْرَبَاءِ وَالْغَازِ فَقَرَّرَ الدَّهَابَ مَعَ وَالِدِهِ لِتَسْذِيبِهَا. وَفِي الطَّرِيقِ قَامَ وَالِدُهُ بِسَحْبِ مَبْلَغِ الْفَائِثَةِ مِنَ الصَّرَافِ الْآلِيِّ بِاسْتِخْدَامِ الْبِطَّاقَةِ الذَّهَبِيَّةِ. أَثْنَاءَ ذَلِكَ تَلَقَّى وَالِدُهُ إِتْصَالًَا مِنْ شَرِكَةِ مُوبَيْلِيسِ يُرَوِّجُونَ خِدْمَةَ الْمُكَالِمَاتِ خَارِجَ الْوَطَنِ مَعَ حُجَّاجِ مَوْسِمِ 2025.

التعليمية:

1- اِسْتَخْرِجْ مِنَ السَّنَدِ وَسِيْلَةَ اِتِّصَالٍ.....

- عَرِّفْ وَسَائِلَ الْاِتِّصَالِ.....

2- اِسْتَعْمِلِ الْاَبُ بَطَّاقَةَ لِسَحْبِ الْمَالِ اذْكُرْهَا.....

- مَا هُوَ الْجِهَازُ الَّذِي سَحَبَ مِنْهُ الْاَبُ مَبْلَغَ الْفَائِثَةِ؟ اَيْنَ نَجِدُهُ؟.....

3- اذْكُرِ الْاِسْتِعْمَالَاتِ الْاُخْرَى لِهَذِهِ الْبِطَّاقَةِ.....





الاسم و اللقب:.....

**إختبار الفصل الأول للسنة الخامسة ابتدائي في مادة التربية الإسلامية**

**الوضعية الانطلاقية :**

فِي حِصَّةِ الْقُرْآنِ تَطَرَّقَ تَلَامِيذُ السَّنَةِ الْخَامِسَةِ إِلَى آيَةٍ تُبَيِّنُ صِفَاتِ اللَّهِ تَعَالَى فَتَعَجَّبَ التَّلَامِيذُ مِنْ ذَلِكَ ظَارِحِينَ مَجْمُوعَةً مِنَ الْأَسْئَلَةِ.

**التحريين الأول :**

- أَجِبْ بِصَحِيحٍ أَوْ خَطَأٍ:
- مِنْ صِفَاتِ اللَّهِ تَعَالَى الْعَالِمُ بِكُلِّ شَيْءٍ
- الْإِيثَارُ هُوَ الْأَنَانِيَّةُ وَتَفْضِيلُ النَّفْسِ
- مِنْ أَرْكَانِ الْحَجِّ طَوَافُ الْقُدُومِ
- الْإِيْمَانُ بِالْيَوْمِ الْآخِرِ لَهُ عِدَّةُ أَسْمَاءٍ

**التحريين الثاني:**

أذْكَرُ:

وَاجِبَاتُ الْحَجِّ

أَرْكَانُ الْحَجِّ

- 
- 
- 
- 

- 
- 
- 
-

مَرِضَتْ جَدَّةُ صُهَيْبٍ فَذَهَبَ لِزِيَارَتِهَا لَكِنَّهُ وَجَدَهَا مُتَحَسِّرَةً لِعَدَمِ قُدْرَتِهَا عَلَى الْوُضُوءِ فَأَخْبَرَهَا  
بِأَنَّ تَتِيْمَمَ قَائِلًا: " إِنَّ التَّيْمَمَ مِنْ مَظَاهِرِ الْيُسْرِ فِي الْعِبَادَاتِ "، شَارِحًا لَهَا كَيْفِيَّةَ التَّيْمَمِ.

1- عرّف التَّيْمَمَ.....

.....

.....

2- كيف تكون صفة التَّيْمَمِ؟ مبيّنًا ذلك بحديث شريف.

.....

.....

.....





5AP/...

Nom : .....

Composition de français du 1<sup>er</sup> trimestre

Etude de texte



Texte :

Le hibou, est un oiseau nocturne et mystérieux, il vit dans les forêts et les montagnes. Il a de grands yeux ronds perçants, une tête relativement grande et un plumage épais souvent gris ou brun qui lui permet de se camoufler parfaitement dans son environnement.

Chasseur redoutable, il aime chasser la nuit. Le hibou est carnivore, il se nourrit de rongeurs, de petits oiseaux de reptiles et d'insectes.

Une fois par an, la femelle hibou pond deux à cinq œufs dans un nid caché au milieu d'un arbre creux et les couve, tandis que le mâle est chargé de ramener la nourriture.

« D'après P.Géroutet, livre de sciences naturelles. »

I-Compréhension de l'écrit

1-a-« Le hibou est un ovipare. » Relève du texte la phrase qui le montre. (0.5pt)

.....

b- Complète par : « herbivore – carnivore – insectivore. » (0.5pt)

Le hibou est un .....

2- Réponds par « vrai » ou « faux ». (01pt)

- Le hibou se nourrit de rongeurs. ....
- Son plumage lui permet d'être apparent .....
- Il chasse pendant la nuit .....
- La femelle hibou pond un seul œuf .....

3- a- Dans le texte trouve l'antonyme des mots : (0.5pt)

Petite ≠.....

fin ≠.....

b- Cherche dans le texte le synonyme des mots : (0.5pt)

Habite = .....

se cacher = .....

**4- Souligne le C.O.D et encadre le C.O.I dans la phrase suivante : (01pt)**

Le hibou ramène la nourriture à ses petits.

**5- Conjugue les verbes entre parenthèses au présent de l'indicatif. (01pt)**

Le hibou (**se camoufler**) .....dans la forêt, il (**surgir**) .....brusquement pour chasser.

**6- Mets la phrase suivante au pluriel. (01pt)**

Le hibou est un oiseau carnivore.  
.....

**II- Production écrite : (04pts)**

Pendant les vacances, tu as assisté à un spectacle de cirque et tu as vu un grand éléphant.

Décris cet animal dans un paragraphe de 4 à 5 phrases.

N'oublie pas de :

- **Ecrire un titre.**
- **Utiliser la troisième personne du singulier.**
- **Conjuguer les verbes au présent de l'indicatif.**
- **Mettre la ponctuation.**
- **Aide-toi de la fiche identitaire suivante :**

<b>Nom</b>	<b>Éléphant</b>
<b>Femelle</b>	<b>Éléphante</b>
<b>petit</b>	<b>Éléphanteau</b>
<b>Classe</b>	<b>Mammifère</b>
<b>Pelage</b>	<b>Peau de couleur grise</b>
<b>Habitat</b>	<b>La savane et la forêt</b>
<b>Nourriture</b>	<b>Plantes, feuilles, fruits, racines</b>
<b>Parties du corps</b>	<b>Oreilles-trompe- défenses- pattes.</b>





People's Democratic Republic of Algeria  
 Ministry of National Education  
 EL Qiyam Private School

Full Name : .....

Class: 5PS.....

**The First Term English Exam (5PS)**

**Text:**



Hi! My name is Malak. I'm a pupil in primary school. My father is a strong policeman. He helps people and keeps our city safe. He works at the police station. My mother is a kind dentist. She works in a small clinic and takes care of people's teeth. My mom enjoys cooking delicious meals. My uncle is a skilled mechanic. He repairs cars in his big garage. In his free time, he likes drawing beautiful pictures. At home, I prefer watching TV with my parents on weekends. I also love reading short stories in English. My dream is to become an architect.

**Read the text then do the following tasks.**

**Task 01:** Tick the correct answer. **0.5pt**

The text is about: a- Hobbies  b- Jobs  c- Jobs and Hobbies

**Task 02:** Read the following sentences then decide if they are true or false. **1pt**

- 1- Malak's father is a dentist. ....
- 2- Malak's uncle loves drawing pictures in his free time. ....
- 3- Malak dreams of becoming a teacher. ....
- 4- Malak likes reading short stories in English. ....

**Task 03:** Complete the following table from the text. **3.5pts**

Family Relation	Job	Workplace	Hobby
Father	.....	.....	helping people
.....	dentist	.....	.....
Uncle	.....	garage	.....



**Task 04: Find from the text: 0.5pt**

- 1- The synonym of **friendly** =.....
- 2- The opposite of **weak** ≠.....

**Task 05: Circle the words that have the same sound as “job” 1pt**

manager- television- gendarme- journalist.

**Task 06: put the right intonation: up ↗ down ↘ 0.5pt**

- What is your favourite hobby?.....
- Does he like playing tennis?.....

**Task 07: Use the following information to write a short paragraph about Rafik (in cursive).**

**3 pts**

Rafik.....

.....

.....

.....

.....

.....

Identity Card	
<b>Name:</b> Rafik	
<b>Age:</b> 28 years old	
<b>Job:</b> barber	
<b>Activity:</b> cut hair with scissors	
<b>Workplace:</b> barber shop	
<b>Hobbies:</b> planting and taking pictures	

*Good luck* 😊

الجمهورية الجزائرية الديمقراطية

وزارة التربية الوطنية

مديرية التربية لسيدي بلعباس

مدرسة القيم الحضارية

الإسم : .....

اللقب : .....

إختبار الفصل الأول في التربية الفنية للسنة الخامسة ابتدائي

لون الشكل التالي .

